

樂善堂楊仲明學校  
數學科二年級自學工作紙(八)

姓名： \_\_\_\_\_ (      )                      日期： \_\_\_\_\_

班別： \_\_\_\_\_年級\_\_\_\_\_班                      成績： \_\_\_\_\_ / 10

三位數混合加減

算一算，請在橫線填上適當的答案。

1.  $329 - 173 =$  \_\_\_\_\_

2.  $700 -$  \_\_\_\_\_  $= 421$

3.  $124 + 207 - 168 =$  \_\_\_\_\_

4.  $356 - 191 + 406 =$  \_\_\_\_\_



5.  $250 - 125 + 367 =$  \_\_\_\_\_

6.  $165 + 402 - 108 =$  \_\_\_\_\_



7.  $461 - 255 + 449 =$  \_\_\_\_\_

應用題，請列出橫式、直式、答案及答句

8. 快餐店早上賣出三文治302份，下午比早上少賣100份，快餐店全日共賣出三文治多少份？



9. 文文有利是錢520元，弟弟比她少180元，文文和弟弟共有利是錢多少元？



10. 天天有郵票129枚，比姐姐少107枚，哥哥比姐姐少158枚，問哥哥有郵票多少枚？

